

Naam:

Verdeel 9 snoepjes eerlijk over 3 kinderen.

--	--	--


Verdeel 6 appels eerlijk over 2 kinderen.

--	--

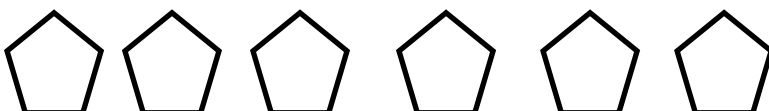
Verdeel 6 lolly's eerlijk over 3 kinderen.

--	--	--

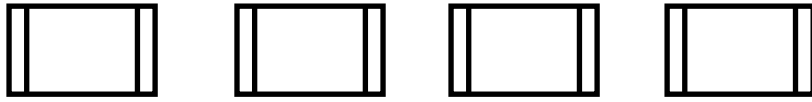
Er zitten 8 koekjes in de trommel. Joep krijgt de helft.



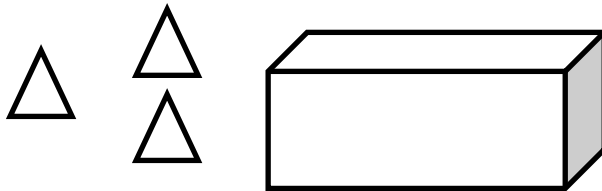
Er zitten 6 cakejes in een doos. Miranda krijgt de helft.




Er zitten 4 wafels in de zak. Juf Mieke krijgt de helft.



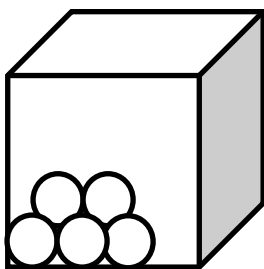
De boer heeft 6 kippen. 3 kippen lopen buiten, hoeveel zitten er in het hok?




Mama heeft 10 koekjes gekocht, er zitten nog maar 6 koekjes in de trommel. Hoeveel zijn er opgegeten?



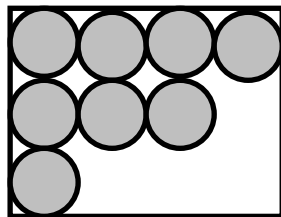
Jan koopt 8 appels voor mama. Hij heeft er al 5 in de kist gedaan. Hoeveel moet hij nog pakken?



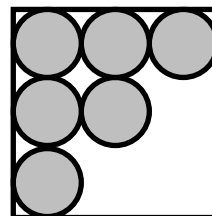
Er zijn 5 sterren, hoeveel sterren zie je niet?



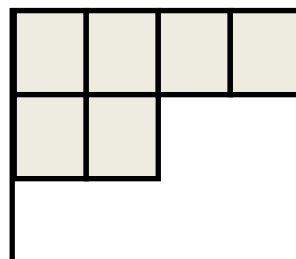
Er zijn zaten 12 ballen in de doos, hoeveel zijn er al verkocht?



Mama heeft 9 koekjes gebakken. Hoeveel heeft Jan al opgegeten?



Meester Renée verzamelt postzegels. Hoeveel moet hij er nog?



Hoeveel stippen samen?

