





## Breuken – deel van het geheel

**Stel bij elke breuk dezelfde breukvragen.**

1. Wat is het geheel?
2. In hoeveel gelijke delen verdeel ik het geheel?
3. Hoeveel delen neem ik?
4. Dat is \_\_\_\_\_

<p>voorbeeld</p> <div style="display: flex; align-items: center;"> <div style="margin-right: 10px;"> <math display="block">\frac{1}{2}</math> </div>  </div>	<ol style="list-style-type: none"> <li>1. het geheel is 6</li> <li>2. ik verdeel in 2 gelijke delen</li> <li>3. ik neem 1 deel</li> <li>4. dat is 3</li> </ol>
<div style="display: flex; align-items: center;"> <div style="margin-right: 10px;"> <math display="block">\frac{2}{3}</math> </div>  </div>	<ol style="list-style-type: none"> <li>1. het geheel is _____</li> <li>2. ik verdeel in ____ gelijke delen</li> <li>3. ik neem ____ delen</li> <li>4. dat is _____</li> </ol>
<div style="display: flex; align-items: center;"> <div style="margin-right: 10px;"> <math display="block">\frac{2}{6}</math> </div>  </div>	<ol style="list-style-type: none"> <li>1. het geheel is _____</li> <li>2. ik verdeel in ____ gelijke delen</li> <li>3. ik neem ____ delen</li> <li>4. dat is _____</li> </ol>
<div style="display: flex; align-items: center;"> <div style="margin-right: 10px;"> <math display="block">\frac{1}{4}</math> </div>  </div>	<ol style="list-style-type: none"> <li>1. het geheel is _____</li> <li>2. ik verdeel in ____ gelijke delen</li> <li>3. ik neem ____ delen</li> <li>4. dat is _____</li> </ol>



$$\frac{2}{4}$$

1. het geheel is \_\_\_\_\_
2. ik verdeel in \_\_\_\_ gelijke delen
3. ik neem \_\_\_\_\_ delen
4. dat is \_\_\_\_\_


$$\frac{2}{6}$$

1. het geheel is \_\_\_\_\_
2. ik verdeel in \_\_\_\_ gelijke delen
3. ik neem \_\_\_\_\_ delen
4. dat is \_\_\_\_\_


$$\frac{2}{3}$$


1. het geheel is \_\_\_\_\_
2. ik verdeel in \_\_\_\_ gelijke delen
3. ik neem \_\_\_\_\_ delen
4. dat is \_\_\_\_\_


$$\frac{3}{4}$$

1. het geheel is \_\_\_\_\_
2. ik verdeel in \_\_\_\_ gelijke delen
3. ik neem \_\_\_\_\_ delen
4. dat is \_\_\_\_\_



$$\frac{1}{5}$$

1. het geheel is \_\_\_\_\_
2. ik verdeel in \_\_\_\_ gelijke delen
3. ik neem \_\_\_\_\_ delen
4. dat is \_\_\_\_\_




$$\frac{1}{3}$$

1. het geheel is \_\_\_\_\_
2. ik verdeel in \_\_\_\_ gelijke delen
3. ik neem \_\_\_\_\_ delen
4. dat is \_\_\_\_\_



$$\frac{3}{5}$$

1. het geheel is \_\_\_\_\_
2. ik verdeel in \_\_\_\_ gelijke delen
3. ik neem \_\_\_\_\_ delen
4. dat is \_\_\_\_\_



$$\frac{3}{5}$$

1. het geheel is \_\_\_\_\_
2. ik verdeel in \_\_\_\_\_ gelijke delen
3. ik neem \_\_\_\_\_ delen
4. dat is \_\_\_\_\_


$$\frac{1}{2}$$

1. het geheel is \_\_\_\_\_
2. ik verdeel in \_\_\_\_\_ gelijke delen
3. ik neem \_\_\_\_\_ delen
4. dat is \_\_\_\_\_


$$\frac{2}{4}$$

1. het geheel is \_\_\_\_\_
2. ik verdeel in \_\_\_\_\_ gelijke delen
3. ik neem \_\_\_\_\_ delen
4. dat is \_\_\_\_\_
