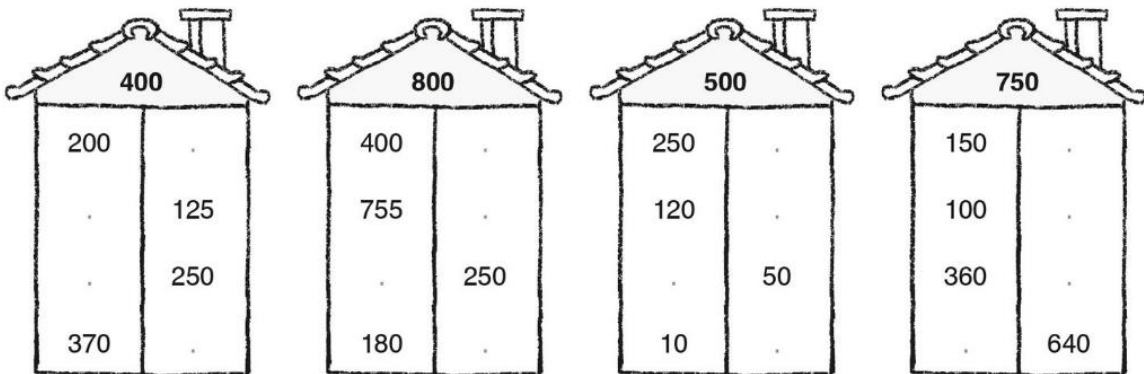


Herhaling: getalennennis

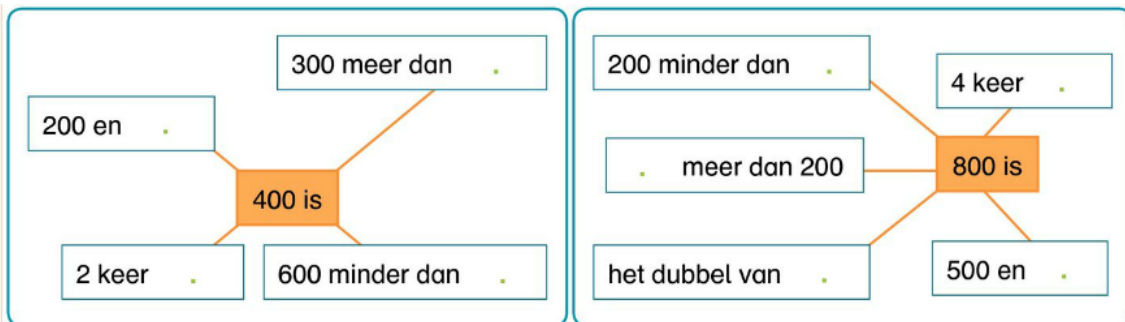
1. Vul de splitsingen verder aan.



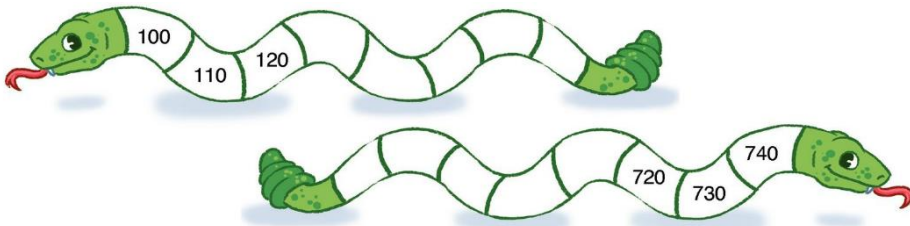
2. Rangschik de getallen.

468	684	846	864	486
.	>	.	>	.

3. Vul de spinnen aan!



4. Vul de rijtjes verder aan.



5. Vul het honderdveld verder in.


	679	.
.	.	690
.	.	700

6. Vul aan.

$$\begin{array}{c} 624 \\ \downarrow \quad \searrow \\ \text{getal} \quad 4E = \dots \\ \quad \quad \quad 2T = \dots \\ \quad \quad \quad 6H = \dots \end{array}$$

$$\begin{array}{c} 707 \\ \downarrow \quad \searrow \\ \dots = \dots \\ \dots = \dots \end{array}$$

7. Welk getal?



8. Rangschik de getallen.

169 642 907 888 299

. < . < . < . < .

353 535 355 553 335

. > . > . > . > .

9. Maak zoveel mogelijk verschillende getallen met de cijfers 2, 5 en 9. Je mag telkens elk cijfer maar één keer gebruiken.

.....

10. Los op en vul de gevonden getallen in het rooster in.

	D	H	T	E
100 meer dan 400 is				
100 minder dan 1000 is				
1 tiental meer dan 460 is				
1 tiental minder dan 980 is				
17 tientallen is				
3 honderdtallen is				
1 honderdtal meer dan 900 is				
6 E en 2 T en 8 H is				

11. Vul de splitsingen aan.

250	
250	.
100	.

500	
250	.
.	400

750	
500	.
.	50

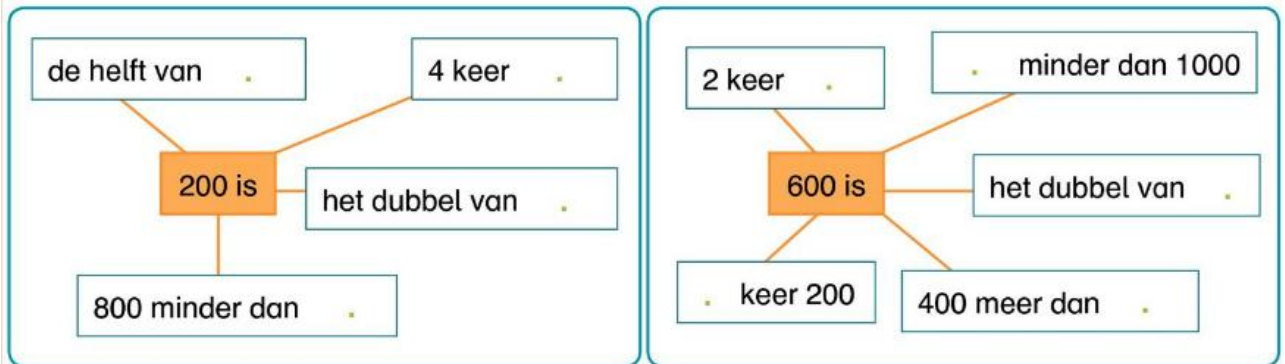
1000	
.	500
750	.

12. Vul de rijtjes aan.

100	101	102						
-----	-----	-----	--	--	--	--	--	--

394	396	397						
-----	-----	-----	--	--	--	--	--	--

13. Vul de spinnen aan.



14. Vul aan.

- De helft van 1000 is .
- Twee keer 250 is .
- Het dubbel van 500 is .
- 250 meer dan 500 is .
- 250 minder dan 500 is .

503		505

	746	

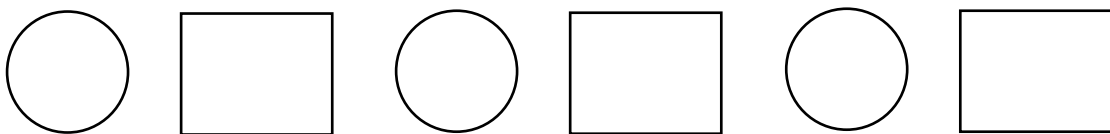
15. Vul > of < of een getal in.

253	.	352
911	.	199
407	.	385

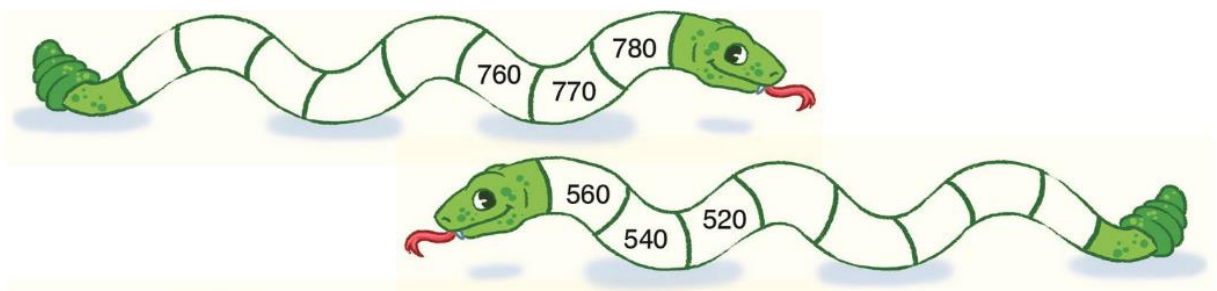
189	<	.	<	191
499	<	.	<	501
367	>	.	>	365

1000	.	111
555	.	600
98	.	103

16. Getallendictee



17. Vul de passende getallen in.



Herhaling: cijferen

	D	H	T	E
		3	6	1
		1	3	2
+				

	D	H	T	E
		4	8	1
		1	1	7
+				

	D	H	T	E
		2	2	1
		1	6	3
+				

	D	H	T	E
		3	3	4
		6	6	2
+				

	D	H	T	E
		4	3	1
		1	6	8
+				

	D	H	T	E
		5	2	1
		4	6	3
+				

	D	H	T	E
		7	0	6
		2	1	3
+				

	D	H	T	E
		1	0	5
		6	2	3
+				

	D	H	T	E
		4	3	1
		2	5	2
+				

	D	H	T	E
		3	4	1
		2	4	1
+				

Herhalen hoofdrekenen

$35 + 8 =$

$47 + 4 =$

$26 - 9 =$

$75 - 38 =$

$(87 + 6) - 4 =$

$(92 - 8) - 8 =$

$100 - (42 + 19) =$

$23 + 18 + 17 =$

$8 \times 9 = .$

$6 \times 8 = .$

$5 \times 7 = .$

$4 \times 6 = .$

$7 \times 5 = .$

$3 \times 4 = .$

$5 \times 3 = .$

$8 \times 2 = .$

$6 \times 9 = .$

$4 \times 7 = .$

$9 \times 5 = .$

$5 \times 6 = .$

$2 \times 8 = .$

$7 \times 3 = .$

$\frac{1}{4} \times 16 =$

$\frac{1}{5} \times 20 =$

$\frac{4}{6} \times 30 =$

$900 - 100 =$

$1000 - 300 =$

$400 + 500 =$

$600 - 150 =$

$900 - 50 =$

$100 - 80 =$

$1000 - 80 =$

$600 + 30 =$

$640 - 10 =$

$1000 - 40 =$

$260 + 400$

$860 - 30 =$

$800 - 50 =$

$100 + 360 =$

$830 + 140 =$

$750 + 150 =$

$500 - 320 =$

$900 - 650 =$

Huiswerk hoofdrekenen

$6 \times 5 = .$

$8 \times 6 = .$

$9 \times 9 = .$

$7 \times 4 = .$

$5 \times 8 = .$

$54 : 6 = .$

$49 : 7 = .$

$36 : 4 = .$

$42 : 6 = .$

$18 : 3 = .$

$8 \times 100 = .$

$20 \times 5 = .$

$14 + 5 =$

$38 + 60 =$

$20 - 7 =$

$48 - 30 =$

$35 + 18 =$

$76 - 48 =$

$53 + 29 =$

$18 + 68 =$

$23 + 77 =$

$18 - 9 =$

$700 - 60 =$

$250 + 250 =$

$700 + 200 =$

$100 + 800 =$

$200 + 400 =$

$1000 - 300 =$

$900 - 600 =$

$800 - 500 =$

$800 - 130 =$

$900 - 80 =$

$470 + 130 =$

$750 + 250 =$

$380 + 620 =$

$1000 - 270 =$

$(45 + 25) + 17 =$

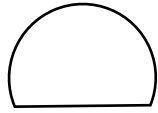

$(100 - 14) - 36 =$

$100 - (23 + 37) =$

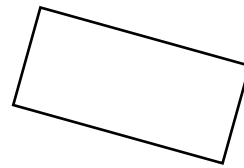
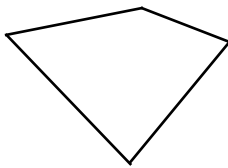
$(90 - 24) + 15 =$

Herhaling meetkunde

1. Zet een kruisje in de veelhoeken.



2. Zet een kruisje in de veelhoeken die minstens 2 evenwijdige zijden hebben.



3. Teken en benoem 2 evenwijdige rechten m en n.

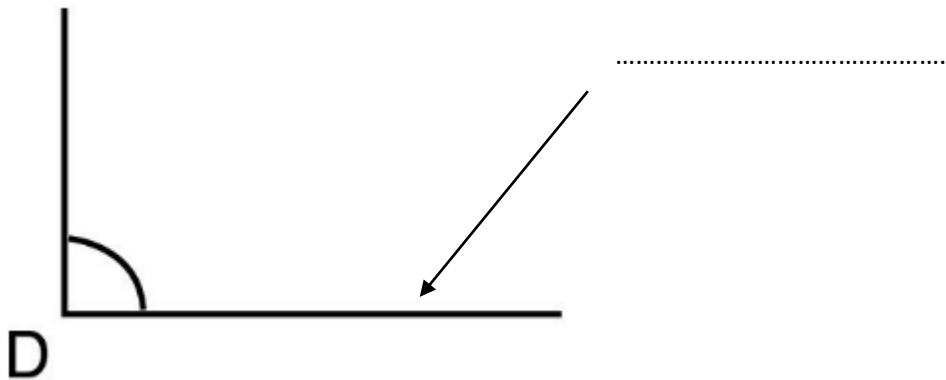
4. Teken en benoem de lijnstukken [EF] en [CD] die elkaar loodrecht snijden.

5. Teken een: rechte hoek met hoekpunt F.

een stompe hoek met hoekpunt L

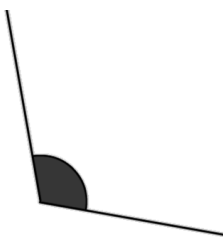
6. Benoem het deel van de hoek dat aangeduid is.

Plaats een kruisje binnen de hoek.



7. Noteer het aantal blokken op het grondplan.

8. Welke hoek is het? Recht, scherp of stomp?



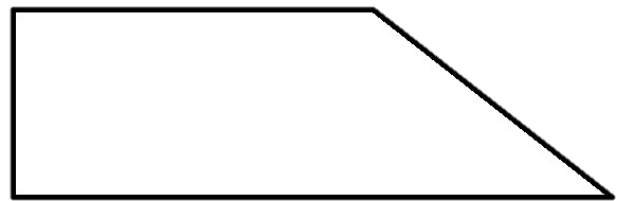
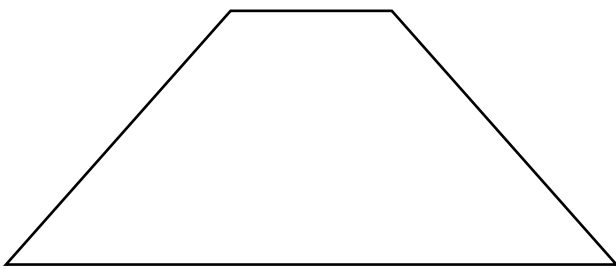
.....

.....

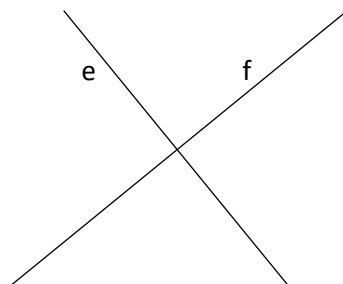
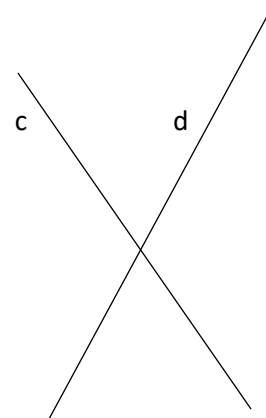

.....

9. Teken een vlakke figuur zonder hoeken.

10. Kleur de scherpe hoeken groen en de rechte hoeken blauw.



11. Overtrek de evenwijdige lijnen met groen. Overtrek de loodrecht snijdende lijnen met blauw.



Herhalen metend rekenen

1. Betaal gepast: 7,46 euro.

2. Geef terug van 10 euro. De prijs is 7,46 euro.

3. Vul aan.

1 kg =g

1 m =cm

1000 g =kg

1 dm =cm

4. Roesbrugge: 8°

Hasselt: 12° → het verschil is.....

5. Moskou -2°

Brussel: 4° → het verschil is

6. januari.....maart.....mei

juliseptember.....november

7. Juist of fout?

	juist	fout
Een volwassen persoon weegt 120 kg		
Een pakje koffie weegt 1 kg.		
Een appel weegt 300 g.		
De lengte tussen duim en wijsvinger is 1 dm.		
Mijn lege boekentas weegt 15 kg.		
In een potje yoghurt kan 1 l.		
Een vingernagel is 10 cm.		

8. Teken een lijnstuk van 1dm en 5 cm lang.

9. Teken een lijnstuk van $\frac{1}{2}$ dm lang.

10. Een broek kost 54,50 euro. Ik betaal met 100 euro. Geef op twee manieren terug.

-
-

11. Herleid:

Tot 12 uur

tot 24 uur

9 uur

.....

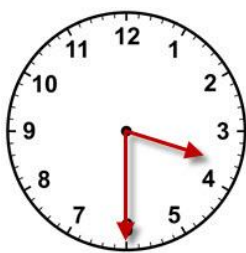
3 uur

.....


1 uur

.....

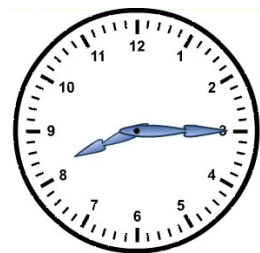
12. Hoe laat is het op deze klokken?



.....




.....



.....

Toepassingen herhaling

1. Op de parking achter de kerk staan 26 grijze, 14 groene en 29 zwarte auto's. Er zijn 100 parkeerplaatsen.



V Hoeveel plaatsen zijn bezet?

B

A

2. In de middelbare school zitten 560 leerlingen. Daarvan blijven er tijdens de middag 340 op school. Hoeveel leerlingen gaan naar huis?

V Hoeveel leerlingen gaan naar huis?

B

A

3. Duikbrillen te koop! Vul goed in.



Aantal	1	7
prijs	8 euro	40 euro	72 euro

4. Jaarlijkse tombola van de brandweer met mooie prijzen!

	GEKREGEN	VERKOCHT	OVER?
Hans	360	150	
Arno	330	210	
Liese	1000	390	
Janne	490	60	

5. In het zwembad komen op dinsdag 340 mannen, 260 vrouwen en 200 kinderen zwemmen.

V Hoeveel zwemmers is dat samen?

B

A

6. Stel een vraag. Maar een tekening en een bewerking. Noteer het antwoord.

→ De groentenboer nam 55 kg tomaten en 45 kg wortelen mee naar de markt. Hij verkocht 38 kg tomaten.

V

T

B

A

